

Aufgabe 1

15 Punkte

Karl möchte heute, am 1.1.2015, ein Auto kaufen. Dazu eröffnet er ein Kreditkonto (Kontostand bei Eröffnung des Kontos 0 €), von dem er heute 30 000 € für sein Auto abhebt. Der Jahressollzinssatz für das Konto beträgt 4 %.

- a) Welchen Betrag müsste Karl ab heute 4 mal jährlich vorschüssig auf das Konto einzahlen, um den entnommen Betrag wieder auszugleichen?
- b) Wären die Raten bei nachschüssiger Zahlung höher oder niedriger, wenn das Konto auch nach 4 Jahren ausgeglichen sein soll (Begründen Sie Ihre Antwort)?
- c) Welchen Betrag müsste Karl ab heute monatlich vorschüssig einzahlen, um das Konto nach 4 Jahren ausgeglichen zu haben





Aufgabe 2

15 Punkte

Gegeben ist das folgende lineare Optimierungsproblem mit den Strukturvariablen $x_1, x_2, x_3 \in \mathbb{R}_+$, der Zielfunktion Z und den Nebenbedingungen N_1, N_2 und N_3 mit

Z	$3x_1 + 2x_2 + 2x_3$	\rightarrow	\max	
N_1	x_1	$+$	x_3	≤ 8
N_2	$x_1 + x_2$			≤ 7
N_3	$x_1 + 2x_2$			≤ 12

Lösen Sie das Problem rechnerisch mittels Simplex-Algorithmus.





Aufgabe 3

14 Punkte

Bestimmen Sie für $x > 0$ die Lösung des Anfangswertproblems

$$x + y = xy' - 1, \quad y(1) = 0.$$





Aufgabe 4

17 Punkte

Ein Freund von Ihnen hat über einen Teil seiner Daten, die er für seine Bachelorarbeit erhoben hat, Kaffee geschüttet. Die bereits sortierte Urliste wurde dadurch zum Teil unleserlich. Einige Einträge sowie einige Eigenschaften des kompletten Datensatzes sind aber noch zu entziffern:

x_1	x_2	x_3	x_4	x_5	x_6	\dots
1	1	2	4	4	4	\dots

Sie können erkennen, dass

- ▶ das arithmetische Mittel $\bar{x} = 4,5$,
- ▶ der Modus gleich 5 ist,
- ▶ die Spannweite 9 beträgt
- ▶ und $F(5) = F(7) = \frac{10}{12}$ ist.


a) Rekonstruieren Sie die Urliste aus den Ihnen zur Verfügung stehenden Informationen.

Für die Teilaufgaben b), c), d) ist eine zweite Urliste eines anderen Merkmals mittels Ausprägung a_i und absoluter Häufigkeit h_i gegeben:

Ausprägung a_i	0	25	35	40	45	50	60	70	75	85
Häufigkeit h_i	1	1	4	1	5	3	1	1	2	1

- b) Bestimmen Sie das arithmetische Mittel und den Median der Daten.
- c) Berechnen Sie auch die mittlere quadratische Abweichung, die Standardabweichung sowie die Spannweite der Daten.
- d) Zeichnen Sie ein Histogramm der Daten gemäß folgender Klasseneinteilung:

Klasse	K_1	K_2	K_3	K_4
Intervall	$[0, 17)$	$[17, 42)$	$[42, 68)$	$[68, 90]$





Aufgabe 5

12 Punkte

Beim Mensch-Ärgere-Dich-Nicht muss man erst eine Sechs würfeln, um mit einer Spielfigur in's eigentliche Spiel starten zu dürfen. Dazu hat man pro Runde maximal drei Versuche.

Wie groß ist die Wahrscheinlichkeit, dass...

- a) der erste Spieler bereits in der ersten Runde (also nach spätestens 3 Würfeln) eine Sechs gewürfelt hat?
- b) der erste Spieler auch nach zwei Runden (also insgesamt nach 6 Würfeln) noch keine Sechs gewürfelt hat?
- c) zwei der vier Spieler nach der ersten Runde mit einer Spielfigur starten dürfen?
- d) mindestens einer der vier Spieler nach der ersten Runde mit einer Spielfigur starten darf?





Aufgabe 6


17 Punkte

Die Personalabteilung eines Unternehmens möchte untersuchen, wieviel die Konkurrenzunternehmen der gleichen Branche jährlich an Vertriebsmitarbeiter im Außendienst zahlen. Dazu werden 20 Mitarbeiter dieser Gruppe zu Ihrer letzten Prämie (Merkmal X , in Tausend Euro pro Jahr) befragt. Die Beobachtungen können als Ergebnis einer einfachen Stichprobe aus einer normalverteilten Grundgesamtheit angesehen werden. Es ergeben sich für die Ausprägungen a_i des Merkmals bzw. für die Häufigkeiten h_i in der Stichprobe:


a_i	0	15	20	25	30	35	40	50	55
h_i	1	1	2	2	5	2	4	2	1

- Bestimmen Sie ein Konfidenzintervall für den Mittelwert der Prämien in der Grundgesamtheit zu einem Konfidenzniveau von 90 %.
- Wie müsste die Nullhypothese H_0 und die Gegenhypothese H_1 lauten, wenn die Personalabteilung mit einem Test statistisch bestätigen möchte, dass die durchschnittliche Prämie in der Grundgesamtheit höher als 25.000 € ist?
- Würden Sie eher ein hohes oder ein niedriges Signifikanzniveau wählen, wenn Sie diese Vermutung statistisch bestätigen wollen?
- Führen Sie den Test zu einem Signifikanzniveau von $\alpha = 1\%$ durch.
- Was bedeutet der Fehler 1. Art hier?











Tabellen

Binomialverteilung $X \sim B(n; p)$, Verteilungsfunktion $F(x) = P(X \leq x)$

$n = 2$

$\downarrow x \quad p \rightarrow$	0,01	0,02	0,03	0,04	0,05	0,06	0,07	0,08	0,09	0,1	0,2	0,25	0,3	0,4	0,5
0	0,9801	0,9604	0,9409	0,9216	0,9025	0,8836	0,8649	0,8464	0,8281	0,8100	0,6400	0,5625	0,4900	0,3600	0,2500
1	0,9999	0,9996	0,9991	0,9984	0,9975	0,9964	0,9951	0,9936	0,9919	0,9900	0,9600	0,9375	0,9100	0,8400	0,7500

$n = 3$

$\downarrow x \quad p \rightarrow$	0,01	0,02	0,03	0,04	0,05	0,06	0,07	0,08	0,09	0,1	0,2	0,25	0,3	0,4	0,5
0	0,9703	0,9412	0,9127	0,8847	0,8574	0,8306	0,8044	0,7787	0,7536	0,7290	0,5120	0,4219	0,3430	0,2160	0,1250
1	0,9997	0,9988	0,9974	0,9953	0,9928	0,9896	0,9860	0,9818	0,9772	0,9720	0,8960	0,8438	0,7840	0,6480	0,5000
2	1,0000	1,0000	1,0000	0,9999	0,9999	0,9998	0,9997	0,9995	0,9993	0,9990	0,9920	0,9844	0,9730	0,9360	0,8750

$n = 4$

$\downarrow x \quad p \rightarrow$	0,01	0,02	0,03	0,04	0,05	0,06	0,07	0,08	0,09	0,1	0,2	0,25	0,3	0,4	0,5
0	0,9606	0,9224	0,8853	0,8493	0,8145	0,7807	0,7481	0,7164	0,6857	0,6561	0,4096	0,3164	0,2401	0,1296	0,0625
1	0,9994	0,9977	0,9948	0,9909	0,9860	0,9801	0,9733	0,9656	0,9570	0,9477	0,8192	0,7383	0,6517	0,4752	0,3125
2	1,0000	1,0000	0,9999	0,9998	0,9995	0,9992	0,9987	0,9981	0,9973	0,9963	0,9728	0,9492	0,9163	0,8208	0,6875
3	1,0000	1,0000	1,0000	1,0000	1,0000	1,0000	1,0000	1,0000	0,9999	0,9999	0,9984	0,9961	0,9919	0,9744	0,9375

$n = 5$

$\downarrow x \quad p \rightarrow$	0,01	0,02	0,03	0,04	0,05	0,06	0,07	0,08	0,09	0,1	0,2	0,25	0,3	0,4	0,5
0	0,9510	0,9039	0,8587	0,8154	0,7738	0,7339	0,6957	0,6591	0,6240	0,5905	0,3277	0,2373	0,1681	0,0778	0,0313
1	0,9990	0,9962	0,9915	0,9852	0,9774	0,9681	0,9575	0,9456	0,9326	0,9185	0,7373	0,6328	0,5282	0,3370	0,1875
2	1,0000	0,9999	0,9997	0,9994	0,9988	0,9980	0,9969	0,9955	0,9937	0,9914	0,9421	0,8965	0,8369	0,6826	0,5000
3	1,0000	1,0000	1,0000	1,0000	1,0000	0,9999	0,9999	0,9998	0,9997	0,9995	0,9933	0,9844	0,9692	0,9130	0,8125
4	1,0000	1,0000	1,0000	1,0000	1,0000	1,0000	1,0000	1,0000	1,0000	1,0000	0,9997	0,9990	0,9976	0,9898	0,9688

$n = 6$

$\downarrow x \quad p \rightarrow$	0,01	0,02	0,03	0,04	0,05	0,06	0,07	0,08	0,09	0,1	0,2	0,25	0,3	0,4	0,5
0	0,9415	0,8858	0,8330	0,7828	0,7351	0,6899	0,6470	0,6064	0,5679	0,5314	0,2621	0,1780	0,1176	0,0467	0,0156
1	0,9985	0,9943	0,9875	0,9784	0,9672	0,9541	0,9392	0,9227	0,9048	0,8857	0,6554	0,5339	0,4202	0,2333	0,1094
2	1,0000	0,9998	0,9995	0,9988	0,9978	0,9962	0,9942	0,9915	0,9882	0,9842	0,9011	0,8306	0,7443	0,5443	0,3438
3	1,0000	1,0000	1,0000	1,0000	0,9999	0,9998	0,9997	0,9995	0,9992	0,9987	0,9830	0,9624	0,9295	0,8208	0,6563
4	1,0000	1,0000	1,0000	1,0000	1,0000	1,0000	1,0000	1,0000	1,0000	0,9999	0,9984	0,9954	0,9891	0,9590	0,8906
5	1,0000	1,0000	1,0000	1,0000	1,0000	1,0000	1,0000	1,0000	1,0000	1,0000	0,9999	0,9998	0,9993	0,9959	0,9844

$n = 7$

$\downarrow x \quad p \rightarrow$	0,01	0,02	0,03	0,04	0,05	0,06	0,07	0,08	0,09	0,1	0,2	0,25	0,3	0,4	0,5
0	0,9321	0,8681	0,8080	0,7514	0,6983	0,6485	0,6017	0,5578	0,5168	0,4783	0,2097	0,1335	0,0824	0,0280	0,0078
1	0,9980	0,9921	0,9829	0,9706	0,9556	0,9382	0,9187	0,8974	0,8745	0,8503	0,5767	0,4449	0,3294	0,1586	0,0625
2	1,0000	0,9997	0,9991	0,9980	0,9962	0,9937	0,9903	0,9860	0,9807	0,9743	0,8520	0,7564	0,6471	0,4199	0,2266
3	1,0000	1,0000	1,0000	0,9999	0,9998	0,9996	0,9993	0,9988	0,9982	0,9973	0,9667	0,9294	0,8740	0,7102	0,5000
4	1,0000	1,0000	1,0000	1,0000	1,0000	1,0000	1,0000	0,9999	0,9999	0,9998	0,9953	0,9871	0,9712	0,9037	0,7734
5	1,0000	1,0000	1,0000	1,0000	1,0000	1,0000	1,0000	1,0000	1,0000	1,0000	0,9996	0,9987	0,9962	0,9812	0,9375
6	1,0000	1,0000	1,0000	1,0000	1,0000	1,0000	1,0000	1,0000	1,0000	1,0000	1,0000	0,9999	0,9998	0,9984	0,9922

$n = 8$

$\downarrow x \quad p \rightarrow$	0,01	0,02	0,03	0,04	0,05	0,06	0,07	0,08	0,09	0,1	0,2	0,25	0,3	0,4	0,5
0	0,9227	0,8508	0,7837	0,7214	0,6634	0,6096	0,5596	0,5132	0,4703	0,4305	0,1678	0,1001	0,0576	0,0168	0,0039
1	0,9973	0,9897	0,9777	0,9619	0,9428	0,9208	0,8965	0,8702	0,8423	0,8131	0,5033	0,3671	0,2553	0,1064	0,0352
2	0,9999	0,9996	0,9987	0,9969	0,9942	0,9904	0,9853	0,9789	0,9711	0,9619	0,7969	0,6785	0,5518	0,3154	0,1445
3	1,0000	1,0000	0,9999	0,9998	0,9996	0,9993	0,9987	0,9978	0,9966	0,9950	0,9437	0,8862	0,8059	0,5941	0,3633
4	1,0000	1,0000	1,0000	1,0000	1,0000	1,0000	0,9999	0,9999	0,9997	0,9996	0,9896	0,9727	0,9420	0,8263	0,6367
5	1,0000	1,0000	1,0000	1,0000	1,0000	1,0000	1,0000	1,0000	1,0000	1,0000	0,9988	0,9958	0,9887	0,9502	0,8555
6	1,0000	1,0000	1,0000	1,0000	1,0000	1,0000	1,0000	1,0000	1,0000	1,0000	0,9999	0,9996	0,9987	0,9915	0,9648
7	1,0000	1,0000	1,0000	1,0000	1,0000	1,0000	1,0000	1,0000	1,0000	1,0000	1,0000	1,0000	0,9999	0,9993	0,9961

$n = 9$

$\downarrow x \quad p \rightarrow$	0,01	0,02	0,03	0,04	0,05	0,06	0,07	0,08	0,09	0,1	0,2	0,25	0,3	0,4	0,5
0	0,9135	0,8337	0,7602	0,6925	0,6302	0,5730	0,5204	0,4722	0,4279	0,3874	0,1342	0,0751	0,0404	0,0101	0,0020
1	0,9966	0,9869	0,9718	0,9522	0,9288	0,9022	0,8729	0,8417	0,8088	0,7748	0,4362	0,3003	0,1960	0,0705	0,0195
2	0,9999	0,9994	0,9980	0,9955	0,9916	0,9862	0,9791	0,9702	0,9595	0,9470	0,7382	0,6007	0,4628	0,2318	0,0898
3	1,0000	1,0000	0,9999	0,9997	0,9994	0,9987	0,9977	0,9963	0,9943	0,9917	0,9144	0,8343	0,7297	0,4826	0,2539
4	1,0000	1,0000	1,0000	1,0000	1,0000	0,9999	0,9998	0,9997	0,9995	0,9991	0,9804	0,9511	0,9012	0,7334	0,5000
5	1,0000	1,0000	1,0000	1,0000	1,0000	1,0000	1,0000	1,0000	1,0000	0,9999	0,9969	0,9900	0,9747	0,9006	0,7461
6	1,0000	1,0000	1,0000	1,0000	1,0000	1,0000	1,0000	1,0000	1,0000	1,0000	0,9997	0,9987	0,9957	0,9750	0,9102
7	1,0000	1,0000	1,0000	1,0000	1,0000	1,0000	1,0000	1,0000	1,0000	1,0000	1,0000	0,9999	0,9996	0,9962	0,9805
8	1,0000	1,0000	1,0000	1,0000	1,0000	1,0000	1,0000	1,0000	1,0000	1,0000	1,0000	1,0000	1,0000	0,9997	0,9980

$n = 10$

$\downarrow x \quad p \rightarrow$	0,01	0,02	0,03	0,04	0,05	0,06	0,07	0,08	0,09	0,1	0,2	0,25	0,3	0,4	0,5
0	0,9044	0,8171	0,7374	0,6648	0,5987	0,5386	0,4840	0,4344	0,3894	0,3487	0,1074	0,0563	0,0282	0,0060	0,0010
1	0,9957	0,9838	0,9655	0,9418	0,9139	0,8824	0,8483	0,8121	0,7746	0,7361	0,3758	0,2440	0,1493	0,0464	0,0107
2	0,9999	0,9991	0,9972	0,9938	0,9885	0,9812	0,9717	0,9599	0,9460	0,9298	0,6778	0,5256	0,3828	0,1673	0,0547
3	1,0000	1,0000	0,9999	0,9996	0,9990	0,9980	0,9964	0,9942	0,9912	0,9872	0,8791	0,7759	0,6496	0,3823	0,1719
4	1,0000	1,0000	1,0000	1,0000	0,9999	0,9998	0,9997	0,9994	0,9990	0,9984	0,9672	0,9219	0,8497	0,6331	0,3770
5	1,0000	1,0000	1,0000	1,0000	1,0000	1,0000	1,0000	1,0000	0,9999	0,9999	0,9936	0,9803	0,9527	0,8338	0,6230
6	1,0000	1,0000	1,0000	1,0000	1,0000	1,0000	1,0000	1,0000	1,0000	1,0000	0,9991	0,9965	0,9894	0,9452	0,8281
7	1,0000	1,0000	1,0000	1,0000	1,0000	1,0000	1,0000	1,0000	1,0000	1,0000	0,9999	0,9996	0,9984	0,9877	0,9453
8	1,0000	1,0000	1,0000	1,0000	1,0000	1,0000	1,0000	1,0000	1,0000	1,0000	1,0000	1,0000	0,9999	0,9983	0,9893
9	1,0000	1,0000	1,0000	1,0000	1,0000	1,0000	1,0000	1,0000	1,0000	1,0000	1,0000	1,0000	1,0000	0,9999	0,9990

Verteilungsfunktion Φ der Standardnormalverteilung

Dabei bedeutet $\Phi(x)$ zum Beispiel: $\Phi(2,13) = \Phi(2,1 + 0,03) = 0,9834$. Diesen Wert findet man in der Zeile mit $x_1 = 2,1$ und der Spalte mit $x_2 = 0,03$.

$x_1 \backslash x_2$	0	0,01	0,02	0,03	0,04	0,05	0,06	0,07	0,08	0,09
0	0,50000	0,50399	0,50798	0,51197	0,51595	0,51994	0,52392	0,52790	0,53188	0,53586
0,1	0,53983	0,54380	0,54776	0,55172	0,55567	0,55962	0,56356	0,56749	0,57142	0,57535
0,2	0,57926	0,58317	0,58706	0,59095	0,59483	0,59871	0,60257	0,60642	0,61026	0,61409
0,3	0,61791	0,62172	0,62552	0,62930	0,63307	0,63683	0,64058	0,64431	0,64803	0,65173
0,4	0,65542	0,65910	0,66276	0,66640	0,67003	0,67364	0,67724	0,68082	0,68439	0,68793
0,5	0,69146	0,69497	0,69847	0,70194	0,70540	0,70884	0,71226	0,71566	0,71904	0,72240
0,6	0,72575	0,72907	0,73237	0,73565	0,73891	0,74215	0,74537	0,74857	0,75175	0,75490
0,7	0,75804	0,76115	0,76424	0,76730	0,77035	0,77337	0,77637	0,77935	0,78230	0,78524
0,8	0,78814	0,79103	0,79389	0,79673	0,79955	0,80234	0,80511	0,80785	0,81057	0,81327
0,9	0,81594	0,81859	0,82121	0,82381	0,82639	0,82894	0,83147	0,83398	0,83646	0,83891
1	0,84134	0,84375	0,84614	0,84850	0,85083	0,85314	0,85543	0,85769	0,85993	0,86214
1,1	0,86433	0,86650	0,86864	0,87076	0,87286	0,87493	0,87698	0,87900	0,88100	0,88298
1,2	0,88493	0,88686	0,88877	0,89065	0,89251	0,89435	0,89617	0,89796	0,89973	0,90147
1,3	0,90320	0,90490	0,90658	0,90824	0,90988	0,91149	0,91309	0,91466	0,91621	0,91774
1,4	0,91924	0,92073	0,92220	0,92364	0,92507	0,92647	0,92785	0,92922	0,93056	0,93189
1,5	0,93319	0,93448	0,93574	0,93699	0,93822	0,93943	0,94062	0,94179	0,94295	0,94408
1,6	0,94520	0,94630	0,94738	0,94845	0,94950	0,95053	0,95154	0,95254	0,95352	0,95449
1,7	0,95543	0,95637	0,95728	0,95818	0,95907	0,95994	0,96080	0,96164	0,96246	0,96327
1,8	0,96407	0,96485	0,96562	0,96638	0,96712	0,96784	0,96856	0,96926	0,96995	0,97062
1,9	0,97128	0,97193	0,97257	0,97320	0,97381	0,97441	0,97500	0,97558	0,97615	0,97670
2	0,97725	0,97778	0,97831	0,97882	0,97932	0,97982	0,98030	0,98077	0,98124	0,98169
2,1	0,98214	0,98257	0,98300	0,98341	0,98382	0,98422	0,98461	0,98500	0,98537	0,98574
2,2	0,98610	0,98645	0,98679	0,98713	0,98745	0,98778	0,98809	0,98840	0,98870	0,98899
2,3	0,98928	0,98956	0,98983	0,99010	0,99036	0,99061	0,99086	0,99111	0,99134	0,99158
2,4	0,99180	0,99202	0,99224	0,99245	0,99266	0,99286	0,99305	0,99324	0,99343	0,99361
2,5	0,99379	0,99396	0,99413	0,99430	0,99446	0,99461	0,99477	0,99492	0,99506	0,99520
2,6	0,99534	0,99547	0,99560	0,99573	0,99585	0,99598	0,99609	0,99621	0,99632	0,99643
2,7	0,99653	0,99664	0,99674	0,99683	0,99693	0,99702	0,99711	0,99720	0,99728	0,99736
2,8	0,99744	0,99752	0,99760	0,99767	0,99774	0,99781	0,99788	0,99795	0,99801	0,99807
2,9	0,99813	0,99819	0,99825	0,99831	0,99836	0,99841	0,99846	0,99851	0,99856	0,99861
3	0,99865	0,99869	0,99874	0,99878	0,99882	0,99886	0,99889	0,99893	0,99897	0,99900
3,1	0,99903	0,99906	0,99910	0,99913	0,99916	0,99918	0,99921	0,99924	0,99926	0,99929
3,2	0,99931	0,99934	0,99936	0,99938	0,99940	0,99942	0,99944	0,99946	0,99948	0,99950
3,3	0,99952	0,99953	0,99955	0,99957	0,99958	0,99960	0,99961	0,99962	0,99964	0,99965
3,4	0,99966	0,99968	0,99969	0,99970	0,99971	0,99972	0,99973	0,99974	0,99975	0,99976

α -Fraktile der χ^2 -Verteilung mit n Freiheitsgraden

$\downarrow \alpha \setminus n \rightarrow$	1	2	3	4	5	6	7	8	9	10	11	12	13	14	15
0,005	0,00	0,01	0,07	0,21	0,41	0,68	0,99	1,34	1,73	2,16	2,60	3,07	3,56	4,07	4,60
0,01	0,00	0,02	0,11	0,30	0,55	0,87	1,24	1,65	2,09	2,56	3,05	3,57	4,11	4,66	5,23
0,025	0,00	0,05	0,22	0,48	0,83	1,24	1,69	2,18	2,70	3,25	3,82	4,40	5,01	5,63	6,26
0,05	0,00	0,10	0,35	0,71	1,15	1,64	2,17	2,73	3,33	3,94	4,57	5,23	5,89	6,57	7,26
0,1	0,02	0,21	0,58	1,06	1,61	2,20	2,83	3,49	4,17	4,87	5,58	6,30	7,04	7,79	8,55
0,2	0,06	0,45	1,01	1,65	2,34	3,07	3,82	4,59	5,38	6,18	6,99	7,81	8,63	9,47	10,31
0,25	0,10	0,58	1,21	1,92	2,67	3,45	4,25	5,07	5,90	6,74	7,58	8,44	9,30	10,17	11,04
0,4	0,28	1,02	1,87	2,75	3,66	4,57	5,49	6,42	7,36	8,30	9,24	10,18	11,13	12,08	13,03
0,5	0,45	1,39	2,37	3,36	4,35	5,35	6,35	7,34	8,34	9,34	10,34	11,34	12,34	13,34	14,34
0,6	0,71	1,83	2,95	4,04	5,13	6,21	7,28	8,35	9,41	10,47	11,53	12,58	13,64	14,69	15,73
0,75	1,32	2,77	4,11	5,39	6,63	7,84	9,04	10,22	11,39	12,55	13,70	14,85	15,98	17,12	18,25
0,8	1,64	3,22	4,64	5,99	7,29	8,56	9,80	11,03	12,24	13,44	14,63	15,81	16,98	18,15	19,31
0,9	2,71	4,61	6,25	7,78	9,24	10,64	12,02	13,36	14,68	15,99	17,27	18,55	19,81	21,06	22,31
0,95	3,84	5,99	7,81	9,49	11,07	12,59	14,07	15,51	16,92	18,31	19,68	21,03	22,36	23,68	25,00
0,975	5,02	7,38	9,35	11,14	12,83	14,45	16,01	17,53	19,02	20,48	21,92	23,34	24,74	26,12	27,49
0,99	6,63	9,21	11,34	13,28	15,09	16,81	18,48	20,09	21,67	23,21	24,73	26,22	27,69	29,14	30,58
0,995	7,88	10,60	12,84	14,86	16,75	18,55	20,28	21,95	23,59	25,19	26,76	28,30	29,82	31,32	32,80

$\downarrow \alpha \setminus n \rightarrow$	16	17	18	19	20	21	22	23	24	25	26	27	28	29	30
0,005	5,14	5,70	6,26	6,84	7,43	8,03	8,64	9,26	9,89	10,52	11,16	11,81	12,46	13,12	13,79
0,01	5,81	6,41	7,01	7,63	8,26	8,90	9,54	10,20	10,86	11,52	12,20	12,88	13,56	14,26	14,95
0,025	6,91	7,56	8,23	8,91	9,59	10,28	10,98	11,69	12,40	13,12	13,84	14,57	15,31	16,05	16,79
0,05	7,96	8,67	9,39	10,12	10,85	11,59	12,34	13,09	13,85	14,61	15,38	16,15	16,93	17,71	18,49
0,1	9,31	10,09	10,86	11,65	12,44	13,24	14,04	14,85	15,66	16,47	17,29	18,11	18,94	19,77	20,60
0,2	11,15	12,00	12,86	13,72	14,58	15,44	16,31	17,19	18,06	18,94	19,82	20,70	21,59	22,48	23,36
0,25	11,91	12,79	13,68	14,56	15,45	16,34	17,24	18,14	19,04	19,94	20,84	21,75	22,66	23,57	24,48
0,4	13,98	14,94	15,89	16,85	17,81	18,77	19,73	20,69	21,65	22,62	23,58	24,54	25,51	26,48	27,44
0,5	15,34	16,34	17,34	18,34	19,34	20,34	21,34	22,34	23,34	24,34	25,34	26,34	27,34	28,34	29,34
0,6	16,78	17,82	18,87	19,91	20,95	21,99	23,03	24,07	25,11	26,14	27,18	28,21	29,25	30,28	31,32
0,75	19,37	20,49	21,60	22,72	23,83	24,93	26,04	27,14	28,24	29,34	30,43	31,53	32,62	33,71	34,80
0,8	20,47	21,61	22,76	23,90	25,04	26,17	27,30	28,43	29,55	30,68	31,79	32,91	34,03	35,14	36,25
0,9	23,54	24,77	25,99	27,20	28,41	29,62	30,81	32,01	33,20	34,38	35,56	36,74	37,92	39,09	40,26
0,95	26,30	27,59	28,87	30,14	31,41	32,67	33,92	35,17	36,41	37,65	38,89	40,11	41,34	42,56	43,77
0,975	28,85	30,19	31,53	32,85	34,17	35,48	36,78	38,08	39,36	40,65	41,92	43,19	44,46	45,72	46,98
0,99	32,00	33,41	34,81	36,19	37,57	38,93	40,29	41,64	42,98	44,31	45,64	46,96	48,28	49,59	50,89
0,995	34,27	35,72	37,16	38,58	40,00	41,40	42,80	44,18	45,56	46,93	48,29	49,64	50,99	52,34	53,67

α -Fraktile der t -Verteilung mit n Freiheitsgraden

$\downarrow n \setminus \alpha \rightarrow$	0,6	0,75	0,8	0,9	0,95	0,975	0,99	0,995
1	0,325	1,000	1,376	3,078	6,314	12,706	31,820	63,657
2	0,289	0,816	1,061	1,886	2,920	4,303	6,965	9,925
3	0,277	0,765	0,979	1,638	2,353	3,183	4,541	5,841
4	0,271	0,741	0,941	1,533	2,132	2,776	3,747	4,604
5	0,267	0,727	0,920	1,476	2,015	2,571	3,365	4,032
6	0,265	0,718	0,906	1,440	1,943	2,447	3,143	3,707
7	0,263	0,711	0,896	1,415	1,895	2,365	2,998	3,499
8	0,262	0,706	0,889	1,397	1,860	2,306	2,897	3,355
9	0,261	0,703	0,883	1,383	1,833	2,262	2,821	3,250
10	0,260	0,700	0,879	1,372	1,812	2,228	2,764	3,169
11	0,260	0,698	0,875	1,363	1,796	2,201	2,718	3,106
12	0,259	0,696	0,873	1,356	1,782	2,179	2,681	3,054
13	0,259	0,694	0,870	1,350	1,771	2,160	2,650	3,012
14	0,258	0,692	0,868	1,345	1,761	2,145	2,624	2,977
15	0,258	0,691	0,866	1,341	1,753	2,131	2,603	2,947
16	0,258	0,690	0,865	1,337	1,746	2,120	2,583	2,921
17	0,257	0,689	0,863	1,333	1,740	2,110	2,567	2,898
18	0,257	0,688	0,862	1,330	1,734	2,101	2,552	2,878
19	0,257	0,688	0,861	1,328	1,729	2,093	2,539	2,861
20	0,257	0,687	0,860	1,325	1,725	2,086	2,528	2,845
21	0,257	0,686	0,859	1,323	1,721	2,080	2,518	2,831
22	0,256	0,686	0,858	1,321	1,717	2,074	2,508	2,819
23	0,256	0,685	0,858	1,319	1,714	2,069	2,500	2,807
24	0,256	0,685	0,857	1,318	1,711	2,064	2,492	2,797
25	0,256	0,684	0,856	1,316	1,708	2,059	2,485	2,787
26	0,256	0,684	0,856	1,315	1,706	2,055	2,479	2,779
27	0,256	0,684	0,855	1,314	1,703	2,052	2,473	2,771
28	0,256	0,683	0,855	1,312	1,701	2,048	2,467	2,763
29	0,256	0,683	0,854	1,311	1,699	2,045	2,462	2,756
30	0,256	0,683	0,854	1,310	1,697	2,042	2,457	2,750

α -Fraktile der F -Verteilung mit den Freiheitsgraden ν_1 und ν_2

$\alpha = 0,95$

$\nu_1 \backslash \nu_2$	1	2	3	4	5	6	7	8	9	10	15	20	30	40	50	100
1	161,4	18,51	10,13	7,71	6,61	5,99	5,59	5,32	5,12	4,96	4,54	4,35	4,17	4,08	4,03	3,94
2	199,5	19,00	9,55	6,94	5,79	5,14	4,74	4,46	4,26	4,10	3,68	3,49	3,32	3,23	3,18	3,09
3	215,7	19,16	9,28	6,59	5,41	4,76	4,35	4,07	3,86	3,71	3,29	3,10	2,92	2,84	2,79	2,70
4	224,6	19,25	9,12	6,39	5,19	4,53	4,12	3,84	3,63	3,48	3,06	2,87	2,69	2,61	2,56	2,46
5	230,2	19,30	9,01	6,26	5,05	4,39	3,97	3,69	3,48	3,33	2,90	2,71	2,53	2,45	2,40	2,31
6	234,0	19,33	8,94	6,16	4,95	4,28	3,87	3,58	3,37	3,22	2,79	2,60	2,42	2,34	2,29	2,19
7	236,8	19,35	8,89	6,09	4,88	4,21	3,79	3,50	3,29	3,14	2,71	2,51	2,33	2,25	2,20	2,10
8	238,9	19,37	8,85	6,04	4,82	4,15	3,73	3,44	3,23	3,07	2,64	2,45	2,27	2,18	2,13	2,03
9	240,5	19,38	8,81	6,00	4,77	4,10	3,68	3,39	3,18	3,02	2,59	2,39	2,21	2,12	2,07	1,97
10	241,9	19,40	8,79	5,96	4,74	4,06	3,64	3,35	3,14	2,98	2,54	2,35	2,16	2,08	2,03	1,93
15	245,9	19,43	8,70	5,86	4,62	3,94	3,51	3,22	3,01	2,85	2,40	2,20	2,01	1,92	1,87	1,77
20	248,0	19,45	8,66	5,80	4,56	3,87	3,44	3,15	2,94	2,77	2,33	2,12	1,93	1,84	1,78	1,68
30	250,1	19,46	8,62	5,75	4,50	3,81	3,38	3,08	2,86	2,70	2,25	2,04	1,84	1,74	1,69	1,57
40	251,1	19,47	8,59	5,72	4,46	3,77	3,34	3,04	2,83	2,66	2,20	1,99	1,79	1,69	1,63	1,52
50	251,8	19,48	8,58	5,70	4,44	3,75	3,32	3,02	2,80	2,64	2,18	1,97	1,76	1,66	1,60	1,48
100	253,0	19,49	8,55	5,66	4,41	3,71	3,27	2,97	2,76	2,59	2,12	1,91	1,70	1,59	1,52	1,39

$\alpha = 0,99$

$\nu_1 \backslash \nu_2$	1	2	3	4	5	6	7	8	9	10	15	20	30	40	50	100
1	4052	98,50	34,12	21,20	16,26	13,75	12,25	11,26	10,56	10,04	8,68	8,10	7,56	7,31	7,17	6,90
2	5000	99,00	30,82	18,00	13,27	10,92	9,55	8,65	8,02	7,56	6,36	5,85	5,39	5,18	5,06	4,82
3	5403	99,17	29,46	16,69	12,06	9,78	8,45	7,59	6,99	6,55	5,42	4,94	4,51	4,31	4,20	3,98
4	5625	99,25	28,71	15,98	11,39	9,15	7,85	7,01	6,42	5,99	4,89	4,43	4,02	3,83	3,72	3,51
5	5764	99,30	28,24	15,52	10,97	8,75	7,46	6,63	6,06	5,64	4,56	4,10	3,70	3,51	3,41	3,21
6	5859	99,33	27,91	15,21	10,67	8,47	7,19	6,37	5,80	5,39	4,32	3,87	3,47	3,29	3,19	2,99
7	5928	99,36	27,67	14,98	10,46	8,26	6,99	6,18	5,61	5,20	4,14	3,70	3,30	3,12	3,02	2,82
8	5981	99,37	27,49	14,80	10,29	8,10	6,84	6,03	5,47	5,06	4,00	3,56	3,17	2,99	2,89	2,69
9	6022	99,39	27,35	14,66	10,16	7,98	6,72	5,91	5,35	4,94	3,89	3,46	3,07	2,89	2,78	2,59
10	6056	99,40	27,23	14,55	10,05	7,87	6,62	5,81	5,26	4,85	3,80	3,37	2,98	2,80	2,70	2,50
15	6157	99,43	26,87	14,20	9,72	7,56	6,31	5,52	4,96	4,56	3,52	3,09	2,70	2,52	2,42	2,22
20	6209	99,45	26,69	14,02	9,55	7,40	6,16	5,36	4,81	4,41	3,37	2,94	2,55	2,37	2,27	2,07
30	6261	99,47	26,50	13,84	9,38	7,23	5,99	5,20	4,65	4,25	3,21	2,78	2,39	2,20	2,10	1,89
40	6287	99,47	26,41	13,75	9,29	7,14	5,91	5,12	4,57	4,17	3,13	2,69	2,30	2,11	2,01	1,80
50	6303	99,48	26,35	13,69	9,24	7,09	5,86	5,07	4,52	4,12	3,08	2,64	2,25	2,06	1,95	1,74
100	6334	99,49	26,24	13,58	9,13	6,99	5,75	4,96	4,41	4,01	2,98	2,54	2,13	1,94	1,82	1,60